

# Výlet do vesmíru

Volám sa Neisan. Pochádzam z Japonska a mám 10 rokov. Je 17.8.2048 a mám narodeniny. Dostal som však šifru a neviem ju rozlúštiť. Pomohol by si mi prosím?

Je to výlet do...

3	6	12	9	15	36	112

$14 \cdot 8 = U$        $4 \cdot 2 + 1 = M$        $1 - 4 \cdot 4 = Í$

$3 \cdot 1 = V$        $3 \cdot 2 = E$

$4 \cdot 3 = S$        $9 - 9 \cdot 5 = R$

Ďakujem za rozlúštenie! Som celý rozrušený, že zajtra už odlietam. Ale najprv musím kúpiť vhodnú výzbroj. Mama mi ale povedala že mám minúť všetky peniaze, no nesmie mi nič ostať.

\$ 220 Suma ktorú mám.

Zakrúžkuj čo si kúpil.

1. Helma 40 \$    2. Helma 80 \$

1. Rukavice 10 \$    2. Rukavice 20 \$

1. Hrudník 80 \$    2. Hrudník 120 \$

1. Topánky 15 \$    2. Topánky 25 \$

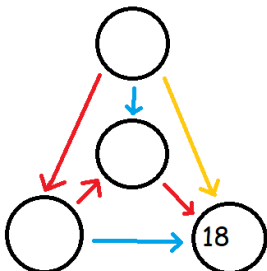
1. Nohavice 35 \$    2. Nohavice 85 \$

Nastúpil som do lode a usadil som sa. Boli tam robotickí obstarávači. Ich počet bol 14 a každý mal 8 očí. Nudil som sa a tak som začal počítat' ich oči. Koľko majú spolu očí?

Odpoveď: \_\_\_\_\_

Výpočet: \_\_\_\_\_

Mama mi do tašky zbalila zošit z geografie. Každý deň musím vypočítat' jednu stranu. Keď som tak počítal a mal niečo rozpočítané, zaspal som, bola to nuda. Snívalo sa mi, že postupne zabúdam na moje vedomosti. Mám z toho strach že všetko zabudnem, pomôžeš mi?



Vyrieš pavučiny:

Potom sme sa išli najesť, na hodinách bolo 13:28. Keď obed skončil bolo 14:19, ale oznámil som Ti to až o 16 minút neskôr. Aký dlhý bol obed?

Odpoveď: \_\_\_\_\_

Výpočet: \_\_\_\_\_

Po obede som išiel do telocvične a mal som 84 \$. Ale keď som sa vrátil mal som už len 29 \$.

Koľko mi ukradli?

Odpoveď: \_\_\_\_\_

Výpočet: \_\_\_\_\_

Išiel som sa teda spýtať robota, koľko je na lodi ľudí. A on odpovedal:

Vyrieš násobenie pod seba:

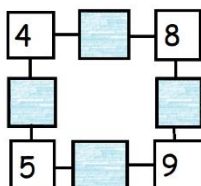
$$\begin{array}{r} 389 \\ \cdot \quad 5 \\ \hline \end{array}$$

Potom mi oznámil že budeme vystupovať. Začal som si teda baliť veci do kufra.

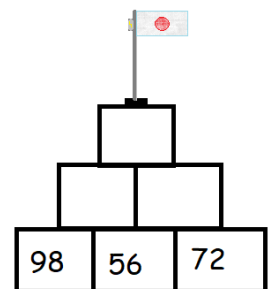
Vyrieš násobilkový štvorec:

Spočítaj súčet stredových

čísel: \_\_\_\_\_

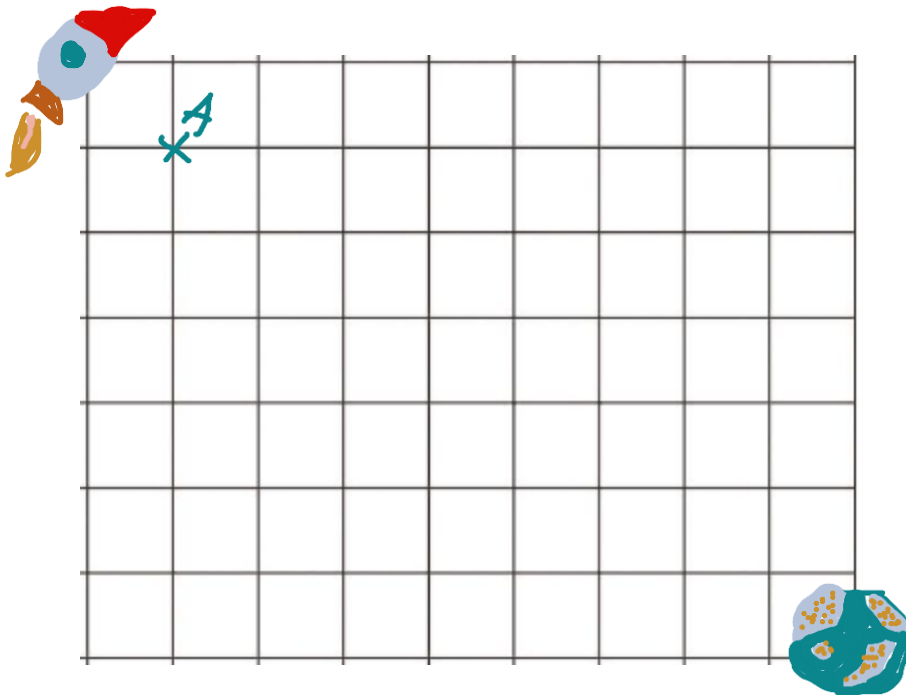


A tak sme teda pristáli na Mesiaci. Zložil som si veci a išiel som na dobrovoľnú túru zapichnúť japonskú zástavu. Hľadal som vhodné miesto. Nakoniec som našiel pekný vršok. Vyrieš pyramídu:



Je čas na návrat. Po výlete na Mesiaci sa už vrátim domov. Vyznač na mape body našej rakety.

Toto je naša letová trasa:



A → → ↓ ↓ B → → → → C ↑ ↑ ← ← ↓ ↓ D  
→ → ↓ E ← ↓ → → F

Toto je koniec môjho výletu a mojej cesty, vrátil som sa domov a žijem ako predtým, no mám lepší zážitok do života.

Koniec.